

GREAT World Wide STAR COUNT

A Windows to the Universe
Citizen Science Event
www.windows.ucar.edu/starcount

20 de octubre –
3 de noviembre de 2008

Pasos:

QUÉ NECESITO?

- ✱ Bolígrafo o lápiz
- ✱ linterna de luz roja o para visión nocturna
- ✱ Unidad GPS, acceso a la internet o un mapa topográfico
- ✱ Guía impresa de la actividad con formulario para reportar los resultados

CÓMO puedo hacer una linterna de visión nocturna?

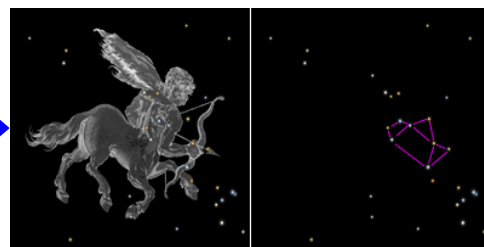
- ✱ Cubre la extremidad de la linterna (donde se encuentra la lente) con papel de celofán o con una bolsa de papel color marrón
- ✱ Amarra el papel a la linterna con una goma elástica o con cinta adhesiva

CUÁNDO observo?

- ✱ Cualquier noche entre del 20 de octubre al 3 de noviembre de 2008
- ✱ Aproximadamente una hora después de que la puesta del sol (usualmente entre las 7:00 y 9:00 pm, hora local)

QUÉ observo?

- ✱ Encuentra tu constelación:
 - ◇ Si vives en el Hemisferio Norte, observarás las estrellas en la constelación del Cisne (Cygnus), que incluye el asterismo conocido como “La Cruz del Norte”.
 - ◇ Si vives en el Hemisferio Sur, observarás las estrellas en la constelación de Sagitario (el arquero), que incluye el asterismo de “La Tetera”
- ✱ Parea tu cielo nocturno con los gráficos de magnitudes en las páginas 2 y 3



DESDE DÓNDE observo?

- ✱ Desde cualquier lugar afuera donde puedas determinar la latitud y la longitud de tu localización geográfica (si necesitas ayuda para determinar esto, visita www.windows.ucar.edu/starcount/latlon.html)
- ✱ Opcional: Puedes reportar más de una observación si observas también desde una localización nueva a (por lo menos) 1 km de distancia

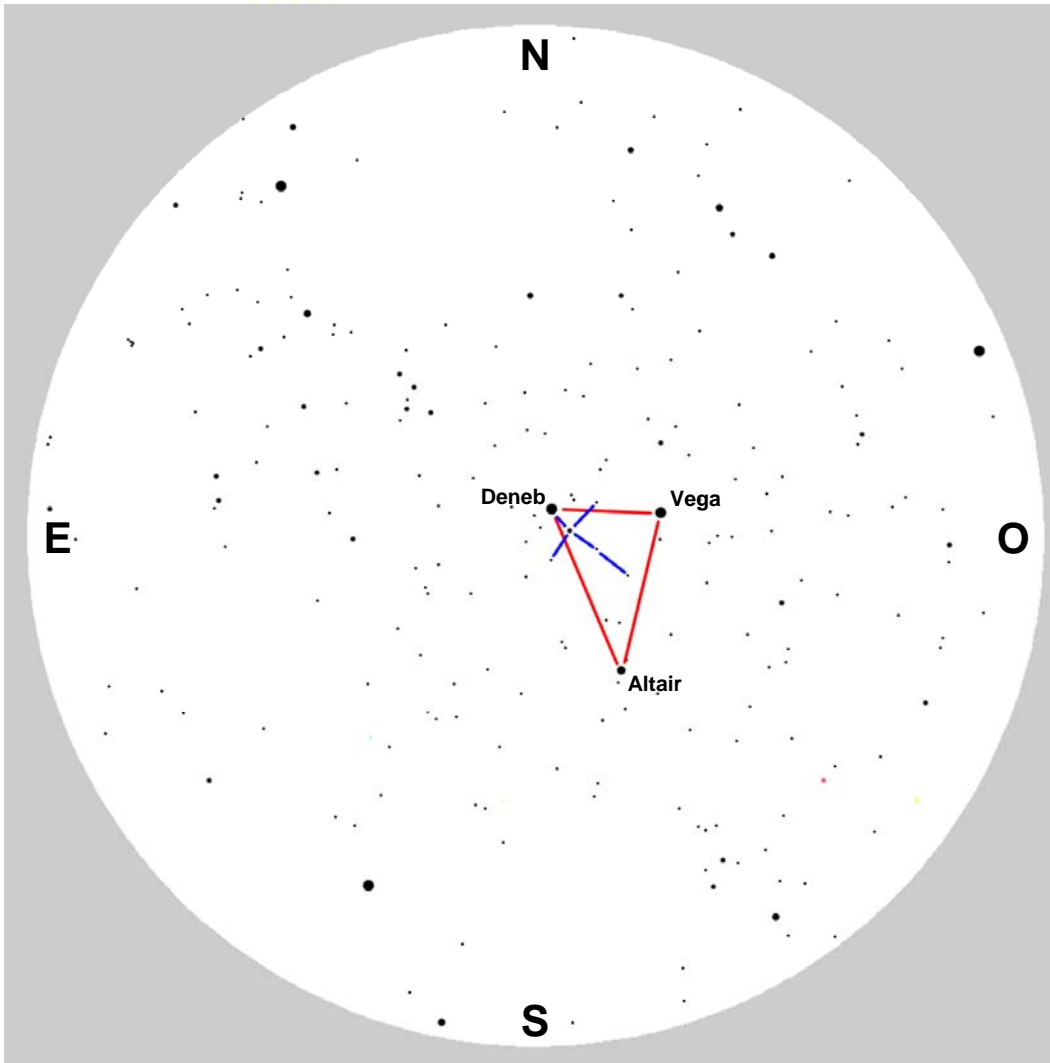
¡No ovides lo siguiente!

Antes de contar estrellas, dale unos 15 minutos a tus ojos para que se adapten a la oscuridad nocturna.

¡Sé cuidadoso!

- ✱ Usa tu buen juicio cuando estés afuera y asegúrate de llevar vestimenta apropiada.
- ✱ Niños jóvenes deben ser supervisados.

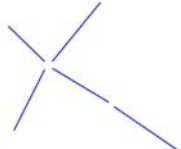

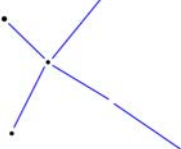
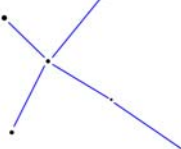
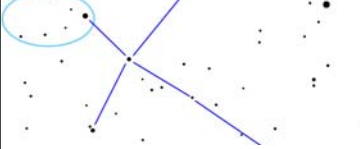
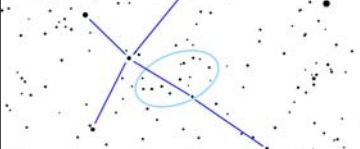
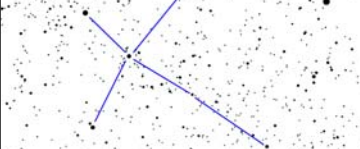
Guía para observar desde el Hemisferio Norte



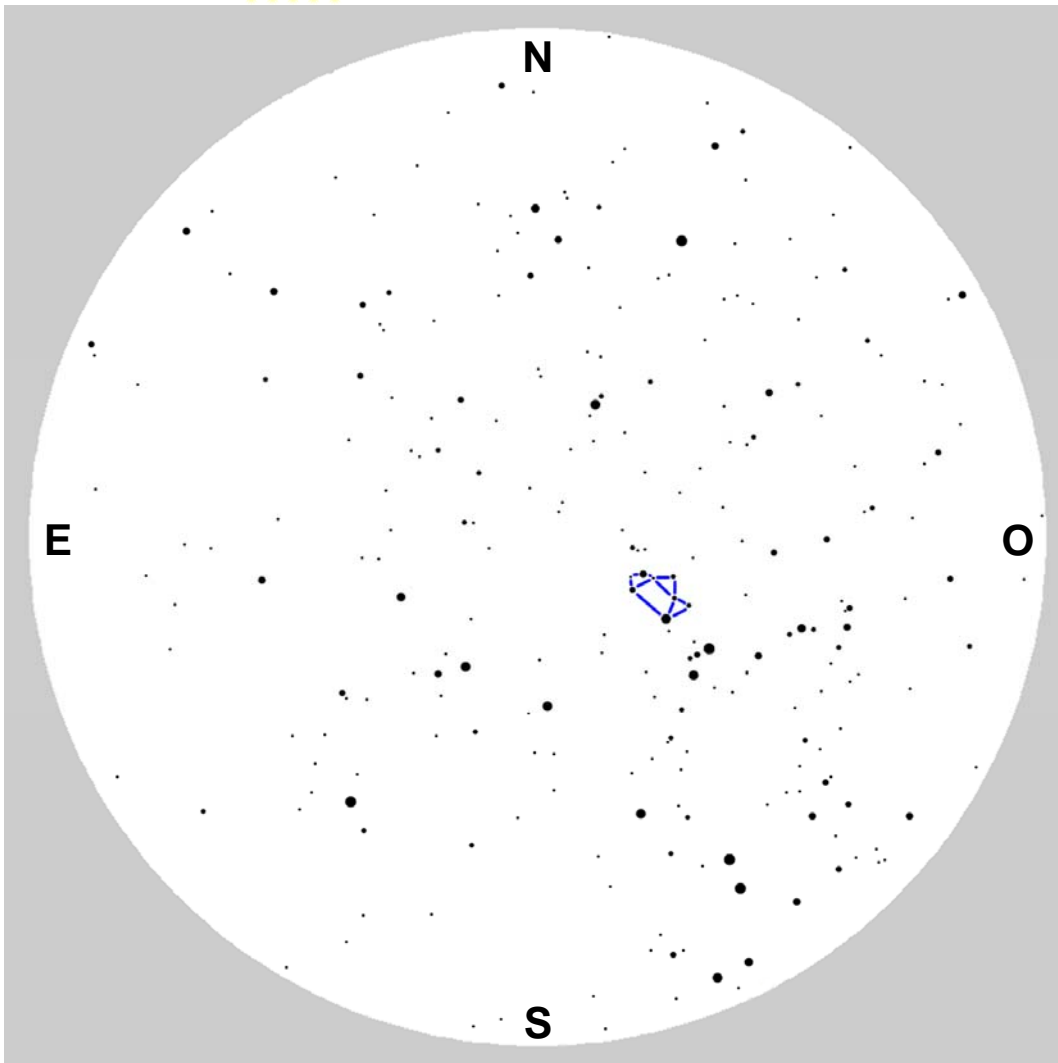
Cómo encontrar la constelación del Cisne y cómo usar los gráficos de magnitudes

La ilustración anterior representa el cielo nocturno desde el punto de vista de un observador en el Hemisferio Norte, aproximadamente una hora después de la puesta del sol a principios de octubre. Esta ilustración te ayudará a encontrar la Cruz de Norte en la constelación del Cisne. Sostén esta página sobre tu cabeza para que los puntos cardinales (cerca de los bordes) apunten en la dirección correcta. Tu visión del cielo debería ser bastante similar a la ilustración. Puede que veas más estrellas o menos, dependiendo de la calidad del cielo nocturno y cuánto tiempo has estado afuera. ¡Verás más estrellas después de permanecer afuera 15 minutos!

Las tres estrellas más brillantes sobre tu cabeza son Vega, Altair y Deneb, que forman lo que se conoce como el "Triángulo de Verano" (marcado en rojo en la ilustración anterior). Deneb es la menos brillante de las tres y estará casi directamente sobre ti. ¡Recuerda que las constelaciones usualmente se ven más grandes de lo que esperarías! Si extiendes tu brazo directamente hacia arriba y estiras tu dedo pulgar y y dedo meñique lo más que puedas, las puntas de estos dedos deberían casi cubrir el área desde la parte superior de la Cruz del Norte (Deneb) hasta la parte inferior (Alberio). Una vez hayas encontrado la Cruz del Norte, usa los gráficos para una magnitud de siete (a la derecha) para determinar la magnitud límite de tu localización. Cada gráfico incluye una clave para ayudarte a decidir.

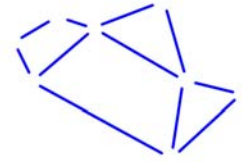
| |
|---|
|  <p>Vega*</p> <p>Magnitud 1: Ninguna de las estrellas de la Cruz del Norte es visible, pero puedes ver a Vega.</p> |
|  <p>Deneb*</p> <p>Magnitud 2: Deneb es la única estrella visible de la Cruz del Norte.</p> |
|  <p>Magnitud 3: Sólo 4 estrellas son visibles en la parte superior de la Cruz del Norte.</p> |
|  <p>Magnitud 4: Las 6 estrellas principales son visibles en la Cruz del Norte.</p> |
|  <p>Magnitud 5: Seis estrellas en forma de "V" son visibles en la parte superior de la Cruz del Norte.</p> |
|  <p>Magnitud 6: Estrellas en forma de "S" son visibles.</p> |
|  <p>Magnitud 7: ¡Hay demasiadas estrellas como para contarlas!</p> |

Guía para observar desde el Hemisferio Sur

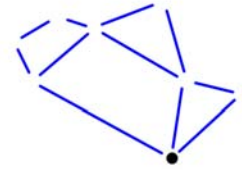


Cómo encontrar la constelación de Sagitario y cómo usar los gráficos de magnitudes

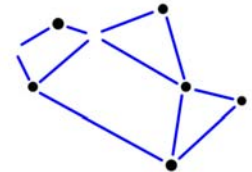
La ilustración anterior representa el cielo nocturno desde el punto de vista de un observador en el Hemisferio Sur, aproximadamente una hora después de la puesta del sol a principios de octubre. Esta ilustración te ayudará a encontrar la Tetera en la constelación de Sagitario. Sostén esta página sobre tu cabeza para que los puntos cardinales (cerca de los bordes) apunten en la dirección correcta. Tu visión del cielo debería ser bastante similar a la ilustración. Puede que veas más estrellas o menos, dependiendo de la calidad del cielo nocturno y cuánto tiempo has estado afuera. ¡Verás más estrellas después de permanecer afuera 15 minutos! La Tetera es fácil de encontrar. Si estás de cara al oeste, mira hacia arriba inclinando la cabeza hasta medio cenit (donde el "cenit" es directamente hacia arriba). Si tienes la suerte de vivir en un lugar desde donde se puede ver la Vía Láctea, verás que ésta se extiende pasando por la Tetera y ¡da la impresión de que hay vapor saliendo de la boca de la Tetera! ¡Recuerda que las constelaciones usualmente se ven más grandes de lo que esperarías! Si extiendes tu brazo y haces un puño con tu mano, el asterismo de la Tetera se verá un poco más grande que el ancho de tu puño. Una vez hayas encontrado la Tetera, usa los gráficos para una magnitud de siete (a la derecha) para determinar la magnitud límite de tu localización. Cada gráfico incluye una clave para ayudarte a decidir.



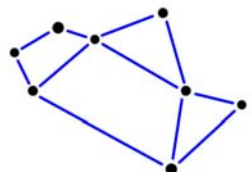
Magnitud 1: Ninguna de las estrellas de la Tetera es visible.



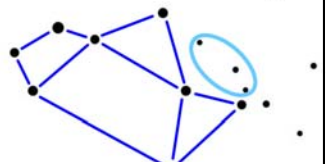
Magnitud 2: Sólo una estrella es visible en la Tetera.



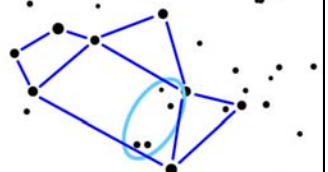
Magnitud 3: Seis estrellas son visibles en la Tetera.



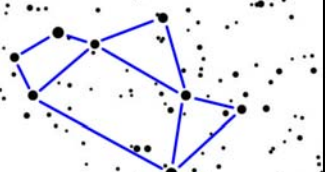
Magnitud 4: Las 8 estrellas principales de la Tetera son visibles.



Magnitud 5: Tres estrellas son visibles encima de la boca de la Tetera.



Magnitud 6: Cuatro estrellas son visibles en el cuerpo de la Tetera.



Magnitud 7: ¡Hay demasiadas estrellas como para contarlas!

GREAT World Wide STAR COUNT

A Windows to the Universe
Citizen Science Event
www.windows.ucar.edu/starcount

20 de octubre –
3 de noviembre de 2008

Formulario para reportar tus observaciones:

CUÁNDO observaste?


*Fecha: ____ de octubre / noviembre, 2008

*Hora Local: ____ : ____ PM (se aconseja que se observe entre 7:00-9:00 pm, hora local)

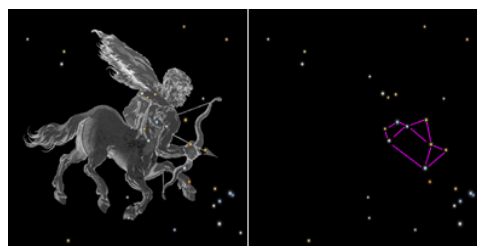
QUÉ observaste?

* Constelación:

Hemisferio Norte – El Cisne



Hemisferio Sur – Sagitario



* **Cielo Nocturno:** Para instrucciones, lee páginas 2 y 3

- Muy nublado como para ver
- Magnitud Límite 1
- Magnitud Límite 2
- Magnitud Límite 3

- Magnitud Límite 4
- Magnitud Límite 5
- Magnitud Límite 6
- Magnitud Límite 7

Comentarios:

DESDE DÓNDE observaste?

Si necesitas ayuda, verifica bajo
www.windows.ucar.edu/starcount/latlon.html

* **Latitud:** _____ grados decimales (remember that North is positive (+) and South is negative (-))

* **Longitud:** _____ grados decimales (remember that East is positive (+) and West is negative (-))

* **País:** _____

Reporta tu observación en línea iendo a: www.windows.ucar.edu/starcount/report.html

GREAT World Wide STAR COUNT

A Windows to the Universe
Citizen Science Event
www.windows.ucar.edu/starcount

20 de octubre –
3 de noviembre de 2008

Actividad: Cuántas estrellas no has podido ver?

Basado en el trabajo "Cálculo de Estrellas no observadas" por Fred Schaaf in *Seeing the Sky*, John Wiley & Sons, 1990

Para completar esta actividad, deberás determinar la magnitud límite de tu localización observando ya sea la constelación del Cisne o de Sagitario, según ha sido explicado en las páginas anteriores.

Has aprendido que el número de estrellas visibles se ve afectado por la calidad del cielo nocturno. La Luna, condiciones atmosféricas y la contaminación óptica por luces pueden dificultar o hasta imposibilitar el ver las estrellas menos brillantes. También has descubierto que los astrónomos usan la escala de magnitud para medir cuán brillantes son las estrellas. Recuerda que estrellas con una magnitud de 1 son más brillantes que aquéllas con una magnitud de 2, que a su vez son más brillantes que aquéllas con magnitud de 3, etc.

Cómo parte del Gran Cuento Mundial de Estrellas, has aprendido a medir la magnitud límite de tu cielo nocturno, es decir, cuáles son las estrellas menos brillantes que se pueden ver. Bajo condiciones óptimas – sin Luna, con cielo despejado y estando muy, muy lejos de luces – el ojo humano puede ver estrellas de hasta una magnitud de 6 ó 7. De acuerdo con la tabla siguiente, ¡esto quiere decir hasta 14,000 estrellas!

| Magnitud Límite | Número aproximado de estrellas visibles |
|-----------------|---|
| 1 | 6 |
| 2 | 45 |
| 3 | 150 |
| 4 | 540 |
| 5 | 1,700 |
| 6 | 4,900 |
| 7 | 14,000 |

Ahora estás listo(a) para calcular cuántas estrellas NO puedes ver desde tu localización. Lo único que debes hacer es restarle a 14,000 el número aproximado de estrellas visibles desde tu localización. Por ejemplo, si has medido una magnitud límite de 3, puedes ver aproximadamente 150 estrellas sin ayuda de binoculares ni telescopios, pero ¡hay unas 13,850 estrellas (14,000 – 150) que no puedes ver!

Preguntas:

1. Cuál crees que sería el resultado si midieras la magnitud límite en un lugar más cerca del pueblo/ciudad más cercano? Y si la midieras a una distancia aún mayor de la que estás del pueblo/ciudad más cercano?
2. Calcula la magnitud límite de tu cielo nocturno justo cuando sales afuera y luego de nuevo después de que hayan pasado 15 minutos afuera. Cuántas estrellas más puedes ver después de que tus ojos se han ajustado a la oscuridad?